



basic education

Department:
Basic Education
REPUBLIC OF SOUTH AFRICA

PUNTE

JAARLIKSE NASIONALE ASSESSERING 2014 GRAAD 2 WISKUNDE: AFRIKAANS TOETS

PUNTE: 30

TYD: 1 UUR

PROVINSIE _____

DISTRIK _____

STREEK _____

NAAM VAN SKOOL _____

EMIS NOMMER (9 syfers)

--	--	--	--	--	--	--	--	--

KLAS (bv. 2A) _____

VAN _____

NAAM _____

GESLAG (✓)

SEUN

MEISIE

GEBOORTEDATUM

C	C	Y	Y	M	M	D	D
---	---	---	---	---	---	---	---

Die toets bestaan uit 12 bladsye, die voorblad uitgesluit.

Instruksies aan die onderwyser:

1. Lees elke instruksie stadig en hoorbaar voor aan die leerders.
2. Lees die vraag twee keer, terwyl die leerders die vraag in hulle vraestelle volg.
3. Gee hulle genoeg tyd om die antwoorde onafhanklik in die gegewe spasies te skryf.
4. Alle bewerkings moet op die vraestel gedoen word en nie op rofwerkpapier nie.
5. Sodra hulle klaar 'n antwoord geskryf het, lees u die volgende vraag.
6. Volg dieselfde prosedure totdat al die vrae beantwoord is.
7. Leerders mag nie sakrekenaars gebruik nie.
8. Die toets tel 30 punte.
9. Toegelate tyd vir die toets is 60 minute.
10. Doen die oefenvraag met die leerders.

Oefenvraag

Tel 36 en 25 bymekaar. Antwoord: Hoofreken $36 + 25 = 61$

Antwoord: deur die "opbreek/afbreek" metode te gebruik.

$$\begin{array}{l} 36 + 25 \\ = 30 + 6 + 20 + 5 \\ = 30 + 20 + 6 + 5 \\ = 50 + 11 \\ = 61 \end{array} \quad \text{of} \quad \begin{array}{r} 6 + 5 = 11 \\ 30 + 20 = 50 \\ \hline 36 + 25 = 61 \end{array}$$

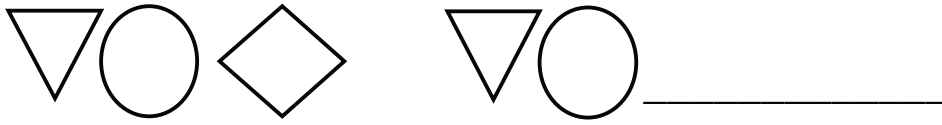
Antwoord: deur aan te tel.

$$36 + 20 \longrightarrow 56 + 5 \longrightarrow 61$$

Jy mag nie die "vertikale metode" gebruik nie.

Die toets begin op die volgende bladsy.


1. Voltooi die patroon deur slegs die volgende vorm te teken.



2. Voltooi:


	Simbool	Getalnaam
2.1		eenhonderd nege en sestig
2.2	72	

3. Kleur twee vyfdes van die onderstaande diagram in.



4. Skryf die waarde van die onderstreepte getal in 47 neer.

5. Teken een ronde vorm.



6. Omkring die letter voor die korrekte antwoord.

Die bewerkingsteken in $63 \text{ — } 12 = 51$ is ...

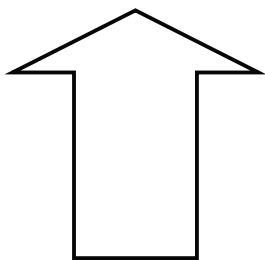
A +

B =

C ÷

D –

7. Teken een lyn van simmetrie.



8. Skryf die getalle van die kleinste na die grootste.

139, 152, 78, 93, 125, 171

_____, _____, _____, _____, _____, _____

9. Beantwoord 9.1 en 9.2.

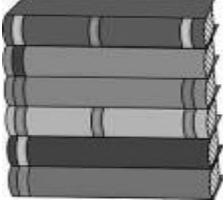

9.1 Die helfte van 48 = _____.



9.2 Verdubbel $3\frac{1}{4}$ = _____.



10. Verbind die prent met die korrekte woord.


	gly
	stapel

11. Vul in "is kleiner as", "is groter as" of "is gelyk aan" om die stelling waar te maak.

158 _____ 158.




12. Omkring die letter voor die korrekte antwoord.

Die tyd getoon op die wyserplaat is ...



- A half sewe.
- B kwart oor drie.
- C half vier.
- D kwart oor ses.


13. Kyk na die onderstaande prentjie en beantwoord die vraag.

		
olifant	renoster	kat

Watter dier is die ligste? _____.


14. Voltooi die getalsin in 14.1 en 14.2.

14.1



_____ x _____ = _____

14.2



___ + ___ + ___ + ___ + ___ + ___ + ___ = _____


15. Voltooi die getalpatroon in 15.1 en 15.2.

15.1 _____; _____; _____; 12; 9; 6; 3


15.2 44; 48; 52; 56; _____; _____; _____

16. Voltooi die getalsin.

$$34 + \underline{\quad} = 75$$



17. Die kinders sit in groepe van 4 in die klas. Daar is 12 groepe.
Hoeveel kinders is daar altesaam in die klas?

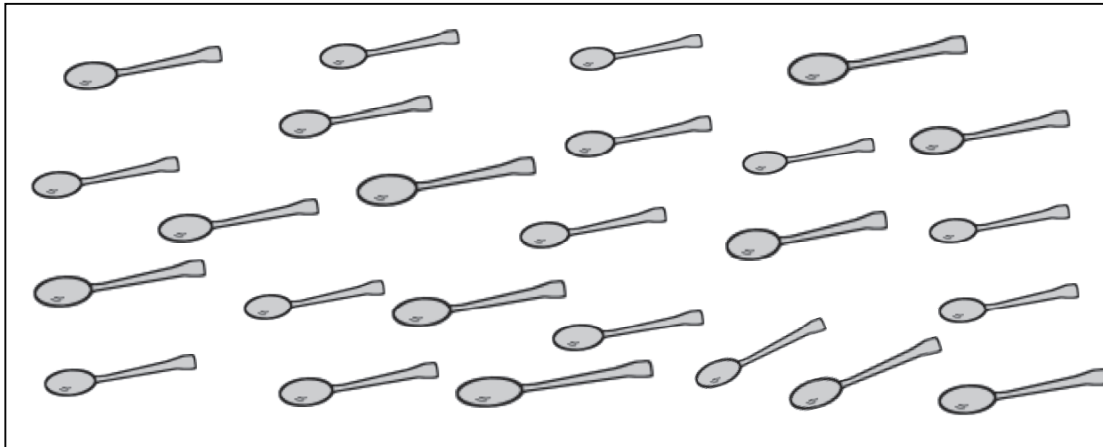


Daar is altesaam _____ kinders in die klas.

18. Voltooi die tabel:


	Ek het	Ek koop vir	Kleingeld
18.1	R35	R15	
18.2		35c	15c

19. Verdeel die 25 lepels in die prent hieronder gelykop tussen 5 meisies.



Elke meisie kry _____ lepels.

20. Vier vol koppies water maak 'n ketel vol.
Hoeveel vol koppies water is nodig om 2 ketels vol te maak?



Twee ketels het _____ koppies nodig.

21. Gebruik die prentgrafiek om die onderstaande sinne te voltooi.

Die opname van die weer op sommige dae in Julie							
Getal dae	8						
	7						
	6						
	5						
	4						
	3						
	2						
	1						
		Bewolk	Sonnig	Donder- weer	Reën	Sneeu	Winderig

21.1 Daar was _____ reëndae in Julie.

21.2 Daar was _____ meer winderige dae, as donderweerd.

TOTAAL: 30

